



CIEEM 2018/2019

Simulacro para la primera evaluación de Geografía

Este simulacro consta de 5 (cinco) ejercicios distribuidos en 4 (cuatro) páginas.

- La resolución de cada consigna debe realizarse en tinta azul o negra indeleble.
- No se aceptarán reclamos sobre respuestas con borradores, con uso de corrector líquido, con realce en flúo o algún color que no sean los indicados.

Leé atentamente cada consigna antes de resolver.

Ejercicio N°1: Población

Resolvé el siguiente acróstico.

- 1.- Simbiosis entre ciencia, técnica y arte que tiene por objeto elaborar representaciones de la superficie terrestre.
- 2.- Relación entre la extensión y las dimensiones de los objetos en el territorio y su representación del papel.
- 3.- Tipo de pirámide que presenta un crecimiento alto de la población.
- 4.- Desplazamiento de población desde su lugar de residencia hasta otro destino en que se instala.
- 5.- Tipo de mapa que representa distintos elementos.
- 6.- Apariencia visible del paisaje.
- 7.- Emigración de personas con elevado nivel de formación (..... de cerebros).
- 8.- Promedio de hijos por madre en edad reproductiva.
- 9.- Distancia angular que existe entre el Ecuador y un punto de la Tierra.

1						G							
2						E							
3						O							
4						G							
5						R							
6						A							
7						F							
8						I							
9						A							

Puntaje ejercicio 1: 18 – Total ejercicio 1:



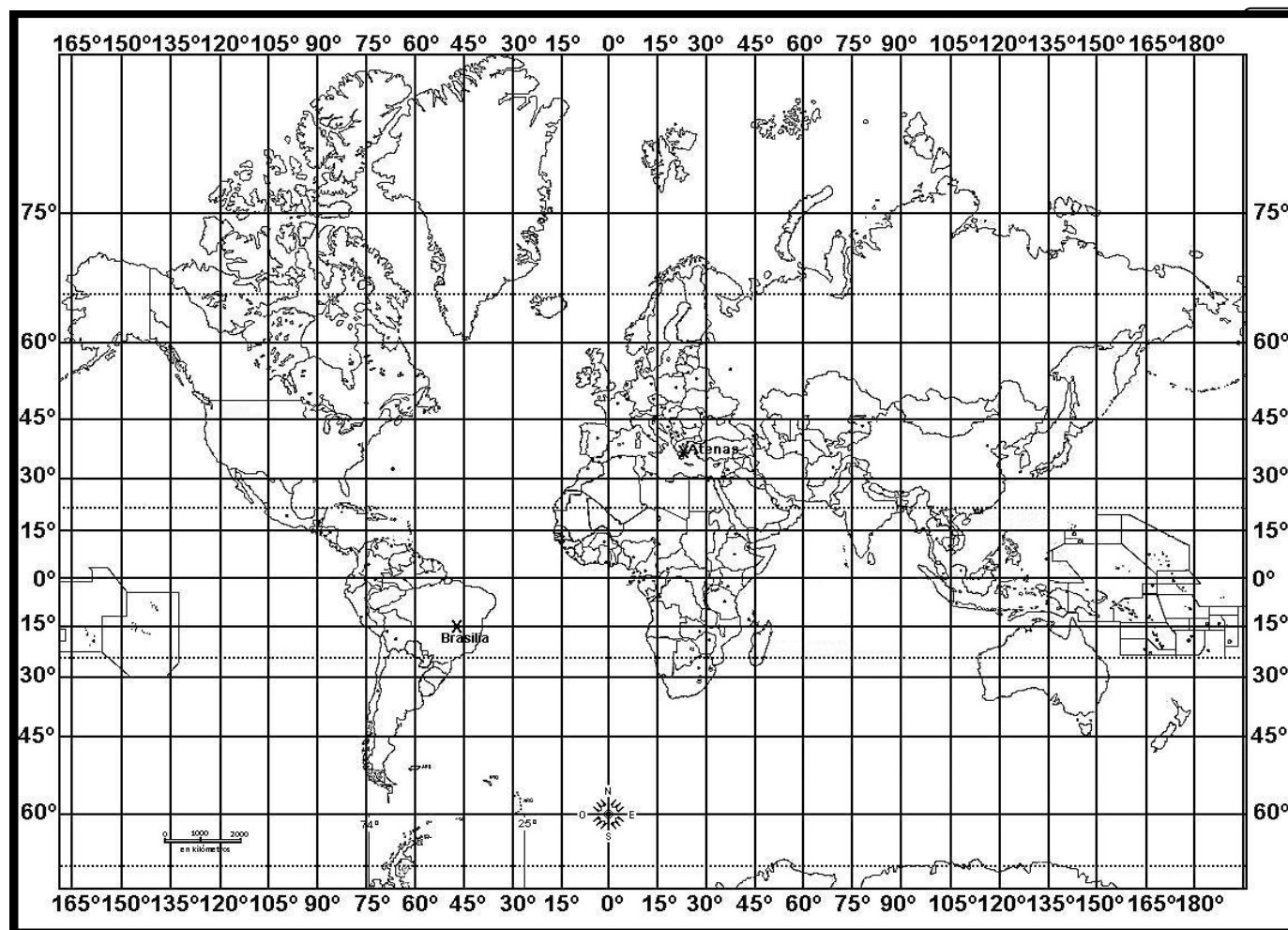
CIEEM 2018/2019

Simulacro para la primera evaluación de Geografía

Ejercicio N°2: Orientación, coordenadas geográficas

Leé el siguiente texto y realizá las actividades.

Un grupo de amigos van de vacaciones a navegar por el Mar Mediterráneo. Salen de la ciudad **A** ubicada a 15° lat S – 48° long O para llegar a la ciudad **B** ubicada a los 38° lat N – 24° long E, dónde subirán a un crucero durante 10 días.



- a.- ¿Qué dirección tomó el avión para ir de la ciudad A a la ciudad B?
- b.- Nombre de la ciudad A:
- c.- Nombre de la ciudad B:
- e.- Cuadrante donde se ubica la ciudad B:
- f.- Remarcá en el mapa con color amarillo todo el paralelo de 45° lat sur.
- g.- ¿Qué Océano cruzaron con el avión?
- h.- Localizá en el mapa con una X la siguiente coordenada geográfica: 35° lat N – 140° long O
- i.- Remarcá en el mapa con color violeta todo el Círculo Polar Ártico y escribí su nombre.

Puntaje ejercicio 2: 16 – Total ejercicio 2:

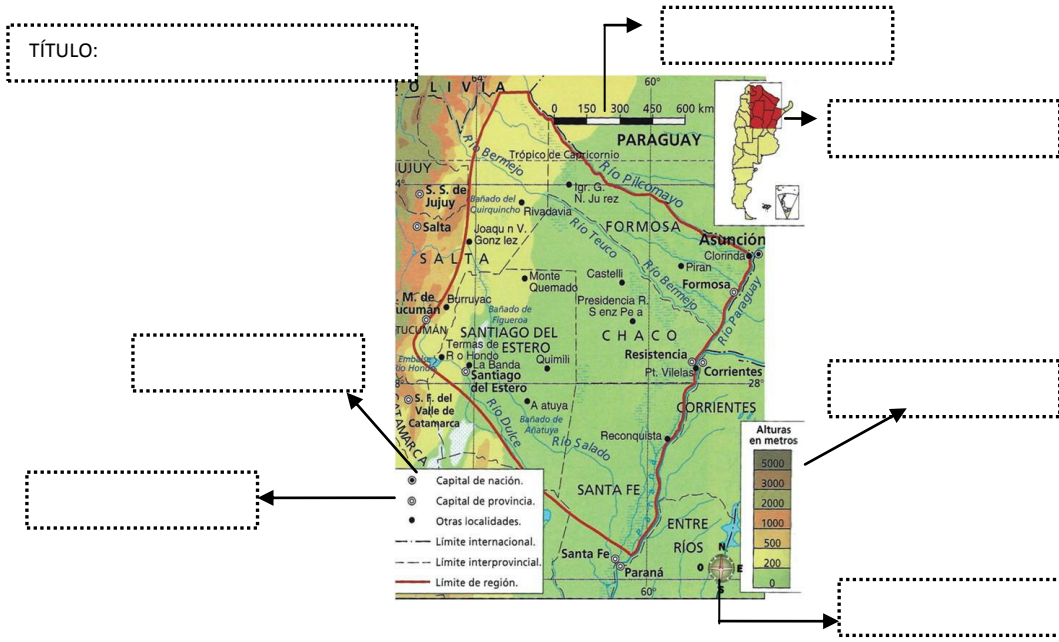


CIEEM 2018/2019

Simulacro para la primera evaluación de Geografía

Ejercicio 3: Elementos del mapa

Completá el mapa utilizando las siguientes palabras: **Escala gráfica, Escala cromática, Referencias, Orientación, Posición relativa, Llanura chaqueña, Signos cartográficos.**

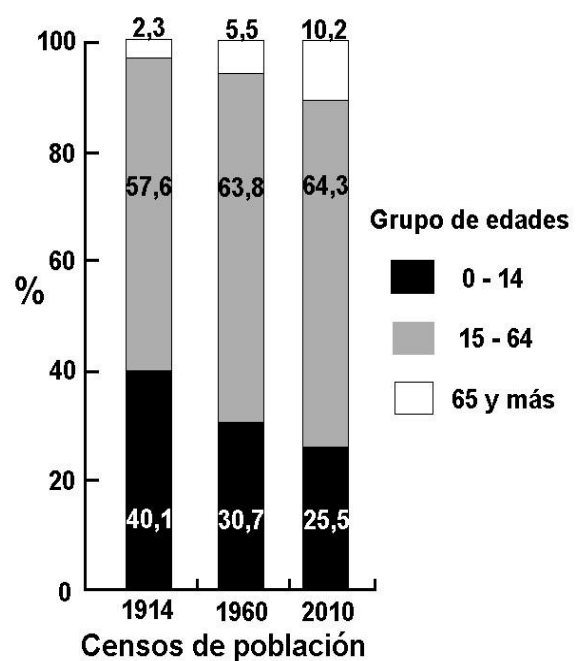


Puntaje ejercicio 3: 14 – Total ejercicio 3:

Ejercicio 4: Composición de la población por edades

- a.- ¿Qué grupo de edad predomina en el último censo?
- b.- ¿Cómo se denomina a este grupo?
- c.- ¿Qué grupo de edad aumentó en mayor proporción?
- d.- ¿Cómo se denomina a este grupo?
- e.- ¿Cómo se llama el proceso que provocó esta variación?
- f.- Subrayar las causas que generan este proceso:
 - **Disminución de la tasa de fecundidad.**
 - Aumento de la mortalidad.
 - Aumento del aporte migratorio.
 - **Mejora en la calidad de vida.**
 - **Disminución de la tasa de natalidad.**
 - Crecimiento de la proporción de pasivos transitorios.
 - Disminución de la esperanza de vida.
 - **Avances médicos y mejora en la alimentación.**

Puntaje ejercicio 4: 18 – Total ejercicio 4:





CIEEM 2018/2019

Simulacro para la primera evaluación de Geografía

Ejercicio 5: Argentina - Orientación

Observá el mapa de la República Argentina respondé:

a.- Nombrá 11 provincias de sur a norte que tienen límite con Chile, luego enuméralas en el mapa de norte a sur.

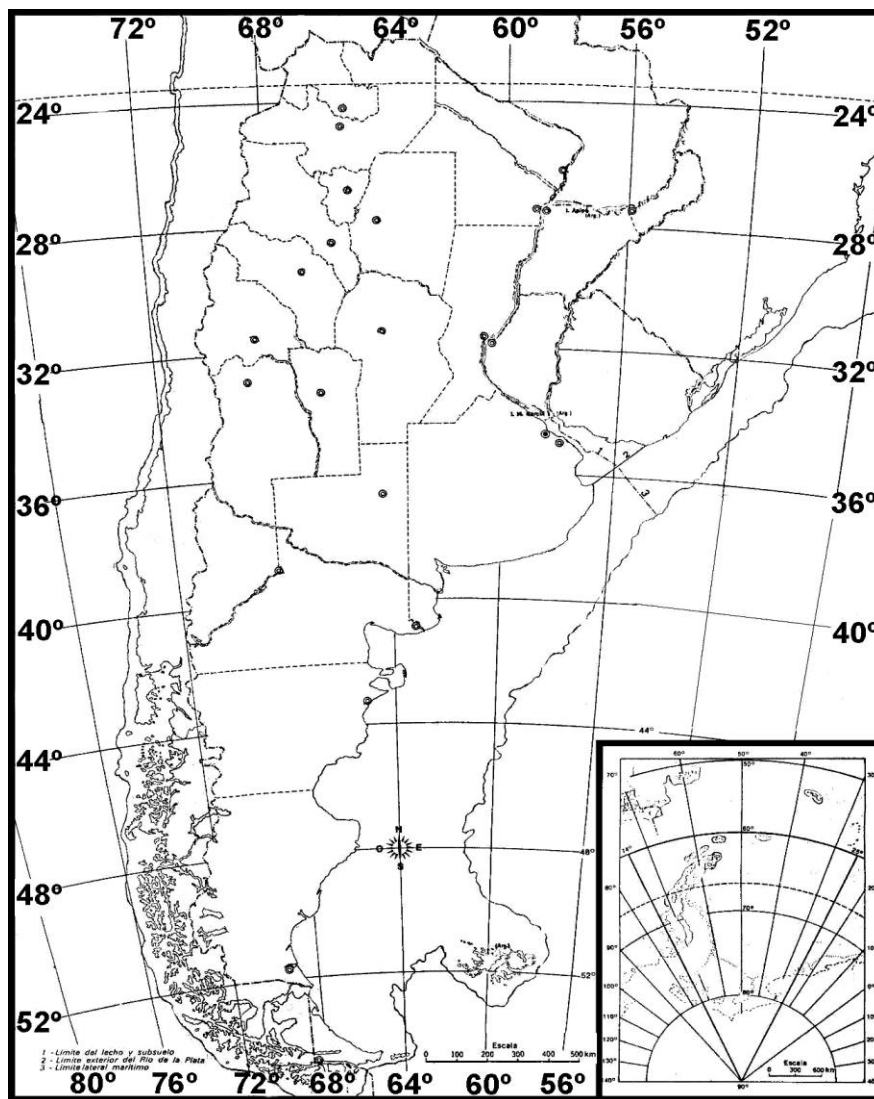
.....
.....

b.- Localizá (significa escribir el nombre) y pintá con color anaranjado aquellas provincias cuyas capitales tienen el mismo nombre que la provincia.

c.- Remarcá con color violeta el Trópico de Capricornio e indicá su valor de latitud.

d.- Nombrá de sur a norte los países atravesados por el meridiano de 56° long O.

.....



Puntaje ejercicio 5: 36 – Total ejercicio 5:

RECORDATORIO PARA EL PRIMER EXAMEN DE GEOGRAFÍA

Estudiar los núcleos temáticos 1 y 2 del libro, también las actividades entregadas cada sábado.

Debés traer los siguientes lápices de colores: amarillo – celeste – anaranjado – violeta – marrón.

Leer bien las consignas antes de responder las mismas.

Usar birome negra o azul. No usar corrector líquido.